

เอกสารประกอบการเรียนรู้

เพื่อทบทวนบทเรียนภาคฤดูร้อน

วิชา สังคมศึกษา

ระดับ ชั้นมัธยมศึกษาปีที่ 3

เรื่อง ทวีปอเมริกาเหนือ

คำสั่งให้นักเรียนอ่านเนื้อหาต่อไปนี แล้วทำใบงานท้ายบทเรียน

๑. สภาพแวดล้อมทางกายภาพของทวีปอเมริกาเหนือ

ทวีปอเมริกาเหนือเป็นถิ่นที่อยู่ของชนชาวพื้นเมืองอินเดียน ๒ เผ่าใหญ่ คือ เผ่าอัซเตก (Aztec) ซึ่งมีถิ่นที่อยู่ทางแถบประเทศเม็กซิโก และเผ่ามายา (Maya) ที่อยู่ทางแถบลาตินอเมริกา เมื่อคริสโตเฟอร์ โคลัมบัส (Christopher Columbus) เดินทางมาพบทวีปแห่งนี้เมื่อ ค.ศ. ๑๔๙๒ นับจากนั้นดินแดนโลกใหม่จึงเป็นที่รู้จักกันอย่างกว้างขวาง และมีประชากรชาวยุโรปอพยพเข้ามาตั้งถิ่นฐานในทวีปอเมริกาเหนือตั้งแต่ต้นคริสต์ศตวรรษที่ ๑๖ เป็นต้นมา โดยได้เข้าครอบครองพื้นที่แทนชาวอินเดียนดั้งเดิม ก่อตั้งเป็นชุมชนและเมืองต่างๆ ขึ้นมา

ทวีปอเมริกาเหนือมีเนื้อที่ ๒๔,๒๔๗,๐๓๔ ตารางกิโลเมตรหรือประมาณร้อยละ ๑๖.๕ ของพื้นแผ่นดินโลก มีขนาดใหญ่เป็นลำดับ ๓ รองจากทวีปเอเชียและทวีปแอฟริกา มีรูปร่างลักษณะกว้างทางตอนบนแล้วเรียวแคบทางตอนใต้

๑.๑ ลักษณะทั่วไปของทวีปอเมริกาเหนือ

ทวีปอเมริกาเหนือตั้งอยู่ในซีกโลกเหนือ ระหว่างละติจูด ๗ องศา ๑๕ ลิปดาเหนือ ถึง ๘๓ องศา ๓๕ ลิปดาเหนือ และระหว่างลองจิจูด ๕๕ องศา ๔๒ ลิปดาตะวันตกถึง ๑๗๒ องศา ๓๐ ลิปดาตะวันออก ทิศเหนือจดมหาสมุทรอาร์กติก ทิศตะวันออกจดมหาสมุทรแอตแลนติก ทิศตะวันตกจดมหาสมุทรแปซิฟิก ทิศใต้ติดต่อกับทวีปอเมริกาใต้ อาณาเขตติดต่อกับทวีปอเมริกาเหนือมีดังนี้

แผนที่อาณาเขตของทวีปอเมริกาเหนือ

ทิศเหนือ
จดมหาสมุทรอาร์กติก
ตำแหน่งภาคพื้นทวีปเหนือสุด คือ คาบสมุทรเออร์ซีลัน โพรมอนเทอรีในดินแดนนูนาวุตประเทศแคนาดา

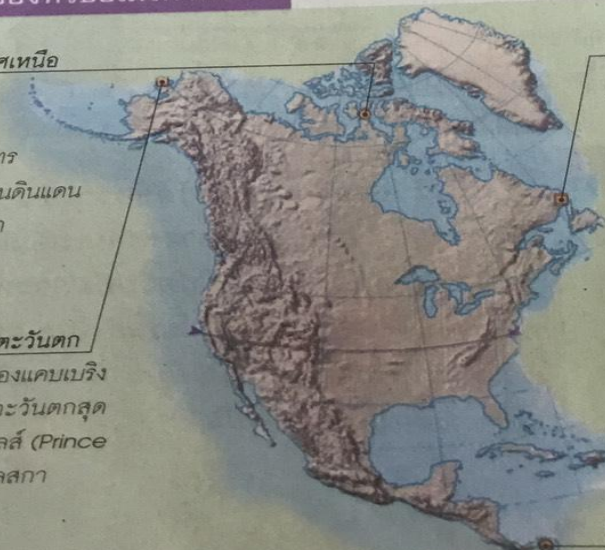
ทิศตะวันตก
จดมหาสมุทรแปซิฟิก ช่องแคบเบริง ตำแหน่งภาคพื้นทวีปตะวันตกสุด คือ แหลมพรินซ์ออฟเวลล์ (Prince of Wales) ในรัฐอะแลสกา สหรัฐอเมริกา

ทิศตะวันออก

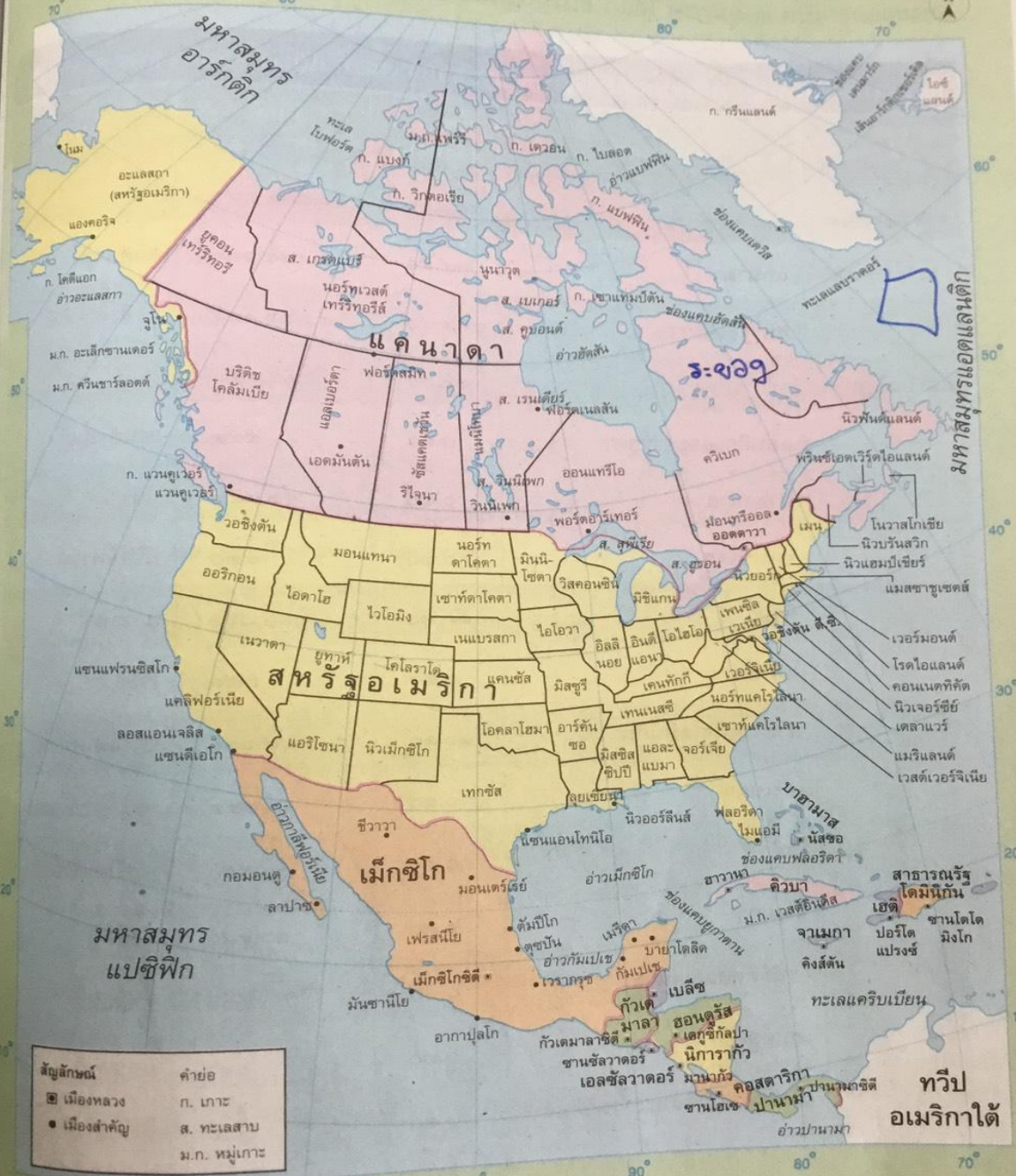

จดมหาสมุทรแอตแลนติก ตำแหน่งภาคพื้นทวีปตะวันออกสุด คือ ชายฝั่งด้านตะวันออกเฉียงใต้ของคาบสมุทรแลบราดอร์ ประเทศแคนาดา

ทิศใต้

ติดต่อกับประเทศโคลอมเบียของทวีปอเมริกาใต้ ตำแหน่งภาคพื้นทวีปใต้สุด คือ ปลายคาบสมุทรอาซอโยโร ประเทศปานามา



แผนที่ตั้งและอาณาเขตของประเทศในทวีปอเมริกาเหนือ



สัญลักษณ์	คำย่อ
☐ เมืองหลวง	ก. เกษะ
● เมืองสำคัญ	ส. ทะเลสาบ
	ม.ก. หมู่เกาะ

ทวีปอเมริกาใต้

ทวีปอเมริกาเหนือมีจำนวนประชากรประมาณ ๕๔๕ ล้านคน (ค.ศ. ๒๐๑๑) มีประเทศ
ที่นานาชาติให้การรับรองแล้ว ๒๒ ประเทศ และดินแดนที่เป็นเขตปกครองตนเอง ๒๒ แห่ง
แบ่งย่อยออกเป็น ๓ ภูมิภาค ได้แก่ อเมริกาเหนือ แคริบเบียน และอเมริกากลาง

ทวีปอเมริกาเหนือ : ภูมิภาคและประเทศ ประชากร เนื้อที่ และเมืองหลวง (พ.ศ. ๒๕๕๔)

ภูมิภาค	ประเทศ	ประชากร (ล้านคน)	เนื้อที่ (ตร.กม.)	เมืองหลวง
อเมริกาเหนือ		๓๔๙.๐๐	๑๙,๘๑๑,๓๔๕	
	แคนาดา	๓๔.๙๐	๙,๙๘๔,๖๗๐	ออตตาวา
	สหรัฐอเมริกา	๓๑๓.๙๐	๙,๘๒๖,๖๗๕	วอชิงตัน ดี.ซี.
แคริบเบียน		๓๖.๐๐	๒๑๕,๔๔๙	
	แอนติกาและบาร์บูดา	๐.๑๐	๔๔๓	เซนต์จอนส์
	บาฮามาส	๐.๔๐	๑๓,๙๔๓	นัสซอ
	บาร์เบโดส	๐.๓๐	๔๓๐	บริดจ์ทาวน์
	คิวบา	๑๑.๒๐	๑๑๐,๘๖๐	ฮาวานา
	โดมินีกา	๐.๑๐	๗๕๑	โรโซ
	สาธารณรัฐโดมินิกัน	๑๐.๑๐	๔๘,๖๗๑	ซานโตโดมิงโก
	เกรเนดา	๐.๑๐	๓๔๔	เซนต์จอร์เจส
	เฮติ	๑๐.๓๐	๒๗,๗๕๐	ปอร์โตแปรงซ์
	จาเมกา	๒.๗๐	๑๐,๙๙๑	คิงส์ตัน
	เซนต์คิตส์และเนวิส	๐.๑๐	๒๖๑	บาสแตร์
	เซนต์ลูเชีย	๐.๒๐	๖๑๖	แคสตรีย์
	เซนต์วินเซนต์และเกรนาดีนส์	๐.๑๐	๓๘๙	คิงส์ทาวน์

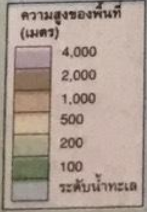
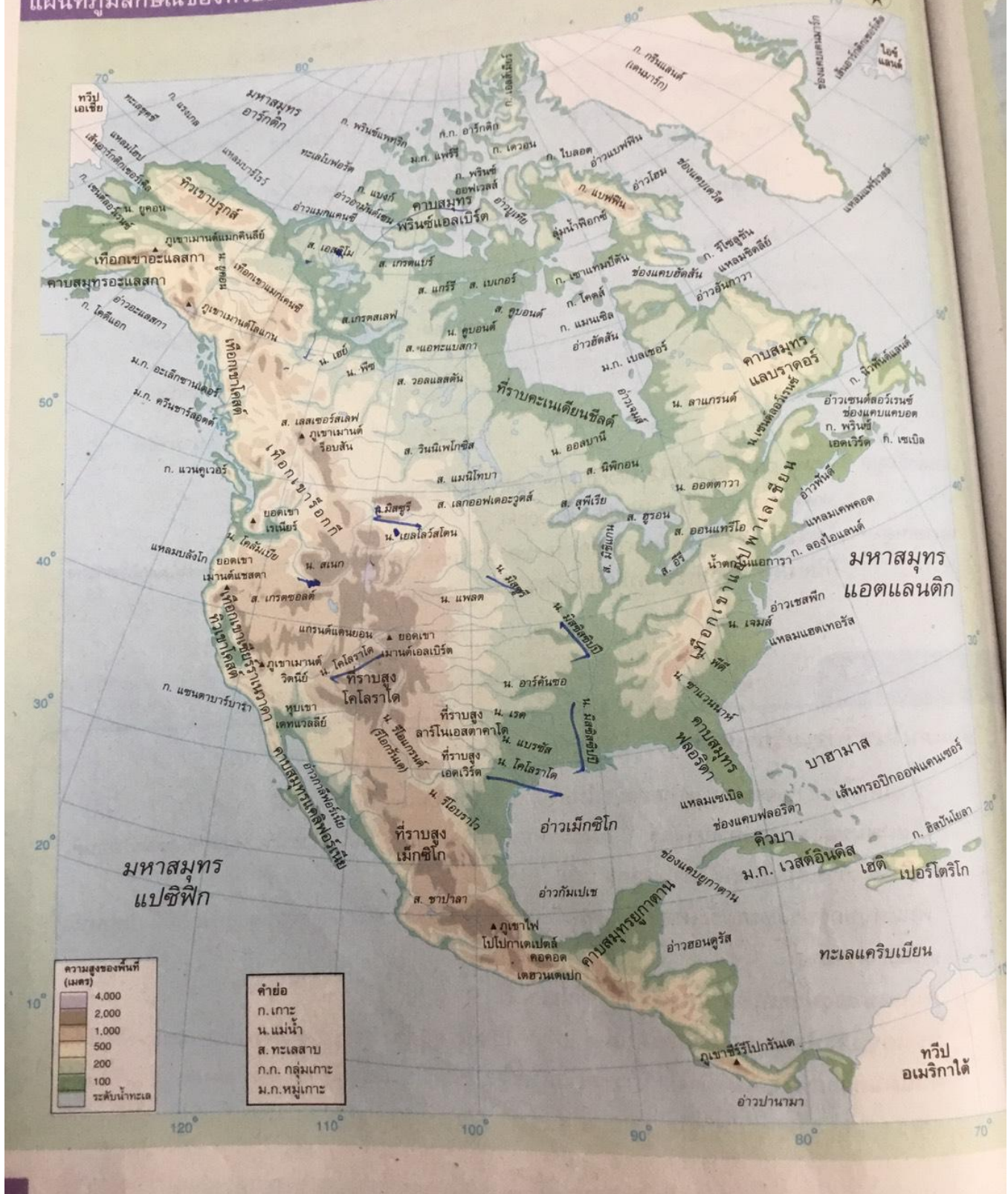

ภูมิภาค	ประเทศ	ประชากร (ล้านคน)	เนื้อที่ (ตร.กม.)	เมืองหลวง
อเมริกากลาง		๑๖๐.๐๐	๒,๔๘๖,๖๕๖	
	เบลีซ	๐.๓๐	๒๒,๙๖๖	เบลโมแพน
	คอสตาริกา	๔.๕๐	๕๑,๑๐๐	ซานโฮเซ
	เอลซัลวาดอร์	๖.๓๐	๒๑,๐๔๑	ซานซัลวาดอร์
	กัวเตมาลา	๑๕.๐๐	๑๐๘,๘๘๙	กัวเตมาลาซิตี
	ฮอนดูรัส	๘.๔๐	๑๑๒,๔๙๒	เตกูซิกัลปา
	เม็กซิโก	๑๑๖.๑๐	๑,๙๖๔,๓๗๕	เม็กซิโกซิตี
	นิการากัว	๖.๐๐	๑๓๐,๓๗๓	มานากัว
	ปานามา	๓.๖๐	๗๕,๔๒๐	ปานามาซิตี

แหล่งข้อมูล : www.prb.org (2012 World Population Data Sheet)

: www.cia.gov (The World Factbook)

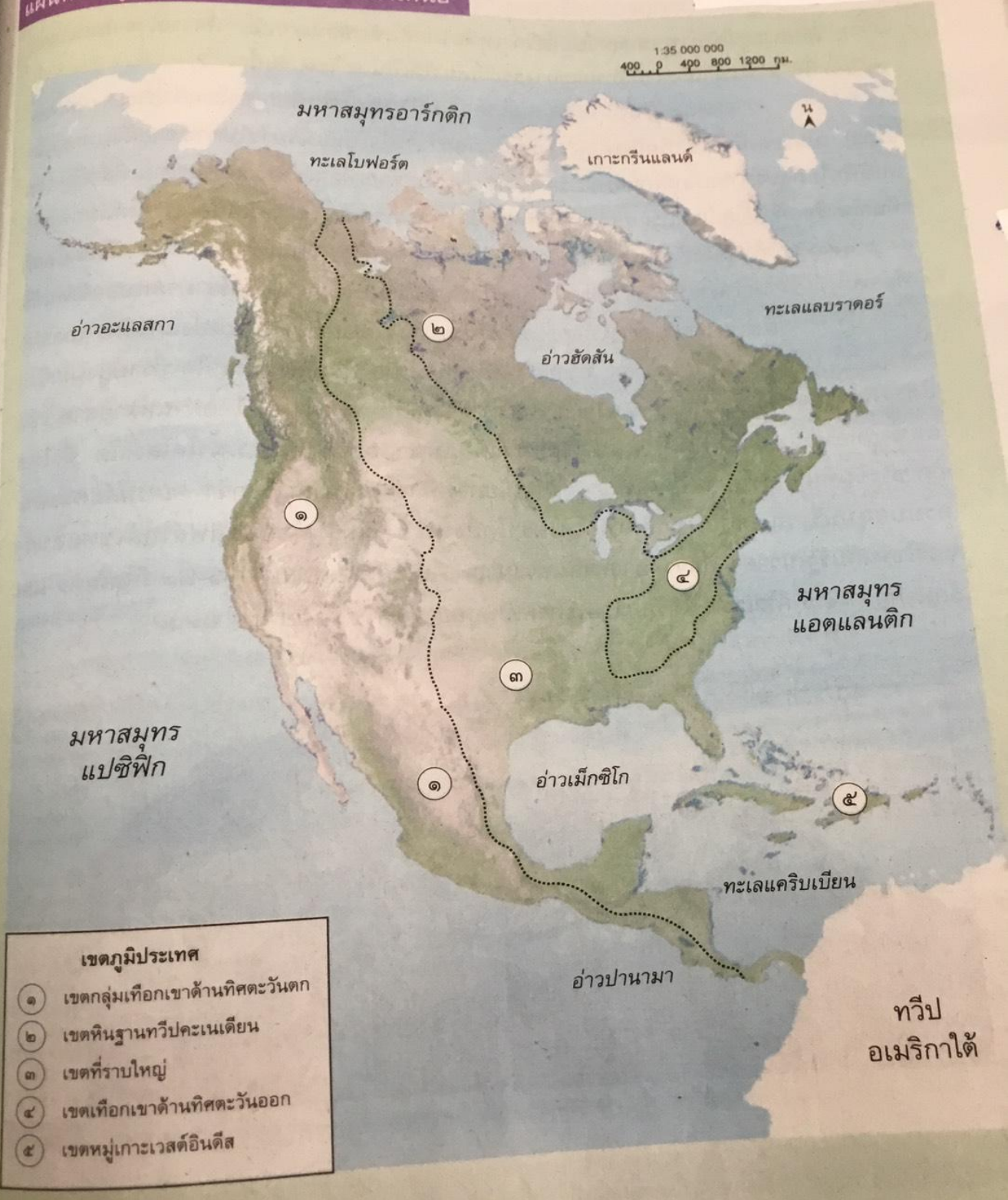
หมายเหตุ : ไม่นับรวม ๒๒ ดินแดนในปกครองของประเทศต่างๆ ซึ่งมีเนื้อที่รวมกัน ๒,๑๘๖,๑๘๔ ตารางกิโลเมตร และประชากรอีกประมาณ ๔.๒๑ ล้านคน

แผนที่ภูมิลักษณะของทวีปอเมริกาเหนือ



- | |
|----------------|
| ก. เกาะ |
| น. แม่น้ำ |
| ส. ทะเลสาบ |
| ก.ก. กลุ่มเกาะ |
| ม.ก. หมู่เกาะ |

แผนที่เขตภูมิประเทศของทวีปอเมริกาเหนือ



เขตภูมิประเทศ

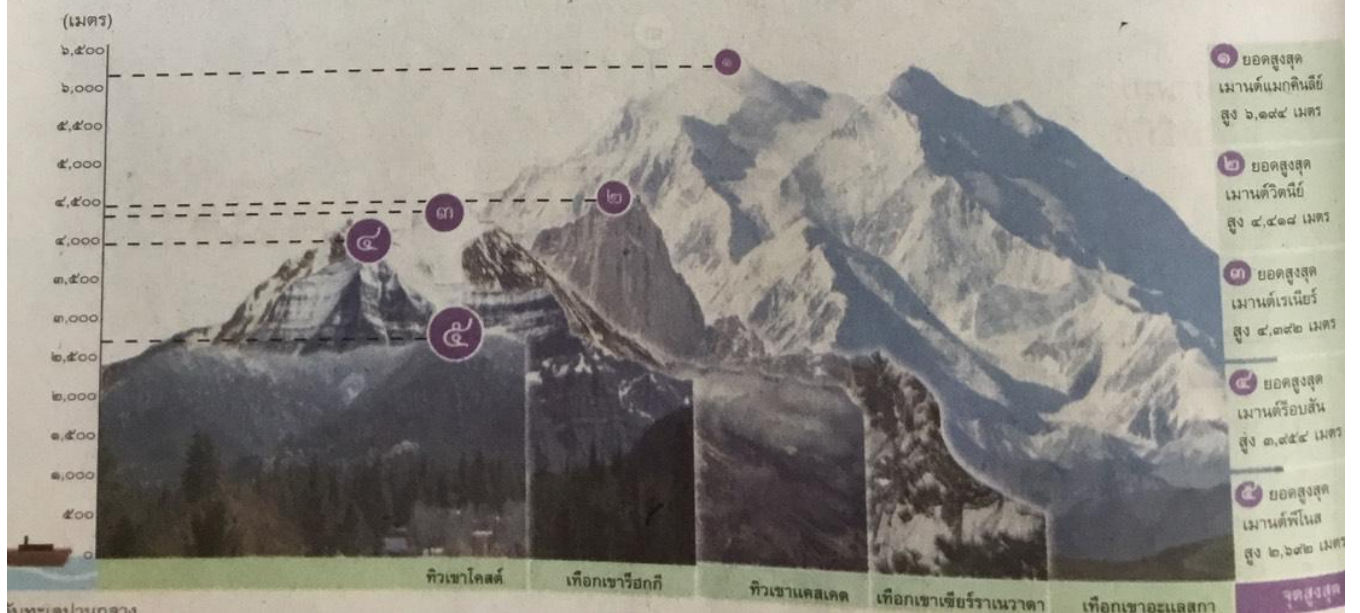
- ๑ เขตกลุ่มเทือกเขาด้านทิศตะวันตก
- ๒ เขตหินฐานทวีปคะเนเดียน
- ๓ เขตที่ราบใหญ่
- ๔ เขตเทือกเขาด้านทิศตะวันออก
- ๕ เขตหมู่เกาะเวสต์อินดีส

๑.๒ ภูมิลักษณะของทวีปอเมริกาเหนือ


ลักษณะภูมิประเทศของทวีปอเมริกาเหนือไม่สลับซับซ้อนมากนัก พิจารณาตามแนวจากเหนือมาใต้ สามารถแบ่งตามลักษณะทางธรณีวิทยาได้เป็น ๕ เขต ดังนี้

๑) **เขตกลุ่มเทือกเขาด้านทิศตะวันตก** หรือเขตเทือกเขาร็อกกี (Rocky Mountains) เป็นเขตเทือกเขาหินใหม่ ตั้งแต่รัฐอะแลสกาทางตัวเป็นแนวยาวไปตามชายฝั่งมหาสมุทรแปซิฟิกไปถึงประเทศเม็กซิโกและอเมริกากลาง ประกอบด้วยเทือกเขาสูงสลับซับซ้อน ที่สำคัญ เช่น เทือกเขาร็อกกี เทือกเขาอะแลสกา (มียอดสูงสุดในภูมิภาคอเมริกาเหนือชื่อ เมานต์แมกคินลีย์ สูง ๖,๑๙๔ เมตรจากระดับทะเลปานกลาง) เทือกเขาแคสเคด เทือกเขาแมกเคนซี ทิวเขาโคสต์ เทือกเขาเซียร์ราเนวาดา เทือกเขาเซียร์รามาเดรโอเรียนตัล และเทือกเขาเซียร์รามาเดรออกซิเดนตัล

ภูมิประเทศระหว่างเทือกเขาสูงมีที่ราบสูง (plateau) และแอ่งแผ่นดิน (basin) หลายแห่ง เช่น ที่ราบสูงอะแลสกา ที่ราบสูงบริติชโคลัมเบีย ที่ราบสูงโคโลราโด ที่ราบสูงเม็กซิโก แอ่งแผ่นดินใหญ่หรือเกรตเบซิน (Great Basin) บริเวณที่ราบสูงมีแม่น้ำไหลผ่านหลายสาย เช่น แม่น้ำยูคอน แม่น้ำฮัมโบลต์ แม่น้ำรีโอแกรนด์ แม่น้ำแบรซัส และแม่น้ำโคโลราโด ซึ่งไหลกัดเซาะชั้นหินลึกลงไปจนเป็นโกรกธาร มีทัศนียภาพที่สวยงามมาก เรียกว่า “แกรนด์แคนยอน” ครอบคลุมบริเวณจากแม่น้ำลิตเทิลโคโลราโดถึงหน้าผาแกรนด์วอชคลิฟส์ใกล้เขตแดนรัฐแอริโซนากับรัฐเนวาดา มีความยาวทั้งสิ้นประมาณ ๔๕๐ กิโลเมตร กว้าง ๖-๒๙ กิโลเมตร และลึกมากกว่า ๑.๖ กิโลเมตร ได้รับการประกาศเป็นอุทยานแห่งชาติเมื่อ ค.ศ. ๑๙๐๙



เขตกลุ่มเทือกเขาด้านตะวันตกเกิดจากการเคลื่อนที่เข้ามาชนกันของแผ่นเปลือกโลกแปซิฟิกกับแผ่นเปลือกโลกอเมริกาเหนือเมื่อ ๘๐ ล้านปีที่ผ่านมามี ทำให้แผ่นดินยกตัวสูงขึ้น กลายเป็นเทือกเขานานไปกับมหาสมุทรแปซิฟิก ตั้งแต่ทางตอนบนของทวีปไปจนถึงอ่าวเม็กซิโก พบภูเขาไฟมีพลัง พื้นดินยังไม่มั่นคง อาจเกิดแผ่นดินไหวหรือมีภูเขาไฟปะทุได้เสมอ เช่น การปะทุของภูเขาไฟเซนต์เฮเลนส์ในสหรัฐอเมริกาเมื่อ ค.ศ. ๑๙๘๐ ภูเขาไฟปากายาในประเทศกัวเตมาลาเมื่อ ค.ศ. ๒๐๑๐ นอกจากนี้ยังมีรอยเลื่อน (fault) ที่มีพลังขนาดใหญ่ชื่อว่า "แซนแอนเดรียส" (San Andreas) ในรัฐแคลิฟอร์เนีย มีความยาวประมาณ ๑,๓๐๐ กิโลเมตร



ทะเลสาบสุพีเรียอยู่ในสหรัฐอเมริกาและแคนาดา เป็นแหล่งน้ำจืดขนาดใหญ่ที่สุดในโลก

๒) เขตหินฐานทวีปคะเนเดียน


หรือคะเนเดียนชีลด์ (Canadian Shield) เป็นเขตหินเก่าอยู่ทางตอนบนของทวีปเป็นรูปโค้งรอบอ่าวฮัดสัน โครงสร้างเป็นหินที่มีความแข็งแกร่ง ผ่านการสึกกร่อนจากการกระทำของธารน้ำแข็ง ลักษณะพื้นผิวจึงเป็นที่ราบและเนินกองตะกอนธารน้ำแข็ง แอ่ง ทะเลสาบ และอ่าว

ด้านตะวันออกเฉียงเหนือเป็นที่ราบสูงลอเรนเซียนซึ่งเหลือจากการครูดสึกกร่อนโดยธารน้ำแข็งที่ไหลไปยังมหาสมุทรแอตแลนติก บริเวณคาบสมุทรแลบราดอร์จึงมีลักษณะเว้าแหว่งแบบฟิออร์ด (fiord) เหมือนเกาะแบฟฟินและเกาะกรีนแลนด์

ส่วนตอนกลางของทวีปมีกลุ่มทะเลสาบ เรียกว่า ทะเลสาบเกรตเลกส์ ประกอบด้วยทะเลสาบขนาดใหญ่ ๕ แห่ง ได้แก่ ทะเลสาบสุพีเรีย มิชิแกน ฮูรอน อีรี และออนแทรีโอ ซึ่งเป็นต้นน้ำของแม่น้ำเซนต์ลอว์เรนซ์ที่ไหลลงสู่มหาสมุทรแอตแลนติก

๓) เขตที่ราบใหญ่ หรือเกรตเพลนส์ (Great Plains) เป็นที่ราบใหญ่ที่สุดที่มีความ

อุดมสมบูรณ์ของทวีป มีอาณาบริเวณอยู่ระหว่างเขตเทือกเขาตะวันตก เขตหินฐานทวีปคะเนเดียน และเทือกเขาตะวันออก ครอบคลุมพื้นที่เป็นแนวยาวตั้งแต่ชายฝั่งมหาสมุทรอาร์กติกทางตอนบนของทวีปลงมาจนถึงแถบอเมริกากลาง กล่าวคือ ตั้งแต่พื้นที่ลุ่มน้ำแมกเคนซี ตอนกลางของประเทศแคนาดา ลงมาทางแถบลุ่มน้ำมิสซิสซิปปี แม่น้ำมิสซูรี แม่น้ำอาร์คันซอ แม่น้ำโอไฮโอ และสาขาของแม่น้ำดังกล่าว ไปทางชายฝั่งตะวันออก รวมถึงคาบสมุทรฟลอริดาของสหรัฐอเมริกา บริเวณอ่าวเม็กซิโก คาบสมุทรยูคาทาน รวมถึงหมู่เกาะต่าง ๆ ในทะเลแคริบเบียน



เทือกเขาแอปพาลาเชียน ตั้งอยู่ทางด้านตะวันออกของทวีปอเมริกาเหนือ ทอดตัวขนานกับชายฝั่งมหาสมุทรแอตแลนติก

๔) เขตเทือกเขาด้านทิศตะวันออก หรือเขตเทือกเขาแอปพาลาเชียน (Appalachian Mountains) เป็นเขตหินเก่า ประกอบด้วยเทือกเขาและที่สูงต่อเนื่องมาจากเขตหินฐานทวีปคะเนเดียน

วางตัวเป็นแนวจากชายฝั่งมหาสมุทรแอตแลนติกด้านตะวันออกเฉียงเหนือไปยังตะวันตกเฉียงใต้ เริ่มตั้งแต่เกาะนิวฟันด์แลนด์ อ่าวเซนต์ลอว์เรนซ์ รัฐโนวาสโกเชียในประเทศแคนาดาลงมาจนถึงรัฐแอละแบมาของสหรัฐอเมริกา เขตนี้มีทิวเขาที่สำคัญ คือ ทิวเขาไวต์ ทิวเขากรีน ทิวเขาแคตสกีลล์ ทิวเขาแอลลิเกนี ทิวเขาบลูริจ และทิวเขาคัมเบอร์แลนด์ โครงสร้างทางธรณีวิทยามีความมั่นคง ยอดเขาจึงมีระดับความสูงลดลงมากจากการสึกกร่อนมานาน ยอดเขาที่สูงที่สุดในเขตนี้ชื่อว่า "มิตเชลล์" สูง ๒,๐๓๗ เมตรจากระดับทะเลปานกลาง อยู่ในรัฐนอร์ทแคโรไลนา สหรัฐอเมริกา


๕) เขตหมู่เกาะเวสต์อินดีส (West Indies) เป็นหมู่เกาะในทะเลแคริบเบียน แบ่ง

เป็น ๓ กลุ่มย่อย ดังนี้

(๑) หมู่เกาะเกรตเตอร์แอนทิลลีส เป็นเกาะขนาดใหญ่ ประกอบด้วย เกาะคิวบา เกาะฮิสปันโยลา (ที่ตั้งของประเทศเฮติและโดมินิกัน) เกาะเปอร์โตริโก และเกาะจาเมกา หมู่เกาะนี้มีรอยเลื่อนที่ยังมีพลัง จึงทำให้เกิดแผ่นดินไหวครั้งรุนแรง เมื่อวันที่ ๑๒ มกราคม พ.ศ. ๒๕๕๓ มีผู้เสียชีวิต ๒ แสนกว่าคน

(๒) หมู่เกาะเลสเซอร์แอนทิลลีส เป็นเกาะขนาดเล็กวางตัวโค้งในแนวเหนือใต้ ประกอบด้วย หมู่เกาะลีเวิร์ดและหมู่เกาะวินเวิร์ด เกาะต่าง ๆ ล้วนเป็นเกาะภูเขาไฟที่ยังมีพลัง

(๓) หมู่เกาะบาฮามาส เป็นเกาะที่เกิดจากโขดหินและปะการัง ตั้งอยู่ระหว่างคาบสมุทรฟลอริดาของสหรัฐอเมริกากับทางตอนเหนือของเกาะคิวบา



หมู่เกาะบาฮามาส ประกอบด้วยเกาะขนาดเล็กกว่า ๓,๐๐๐ เกาะ มีผู้อยู่อาศัยอยู่ได้ ๓๐ เกาะ นอกนั้นเป็นโขดหินและปะการัง

การค้นพบโลกใหม่

ก่อน ค.ศ. ๑๔๙๒ ไม่มีชาวยุโรปคนใดรู้แน่ชัดว่าถัดจากหมู่เกาะอะโซร์สออกไปทางทิศตะวันตก แล้วจะเป็นเช่นไร จนคริสโตเฟอร์ โคลัมบัส (Christopher Columbus) นักเดินเรือชาวอิตาลีได้ออกเดินเรือเพื่อแสวงหาเส้นทางใหม่ไปยัง "อินเดีย" (อินเดีย ตลอดจนถึงดินแดนและหมู่เกาะต่างๆ ในตะวันออกไกล) แต่เขากลับพบทวีปใหม่ ซึ่งยังไม่มียุโรปสำรวจหรือนักภูมิศาสตร์ที่มีชื่อเสียงในทวีปยุโรปรู้ว่ามียู่ ต่อมาดินแดนนี้เรียกว่า "โลกใหม่" ซึ่งปัจจุบัน คือ ทวีปอเมริกาเหนือและทวีปอเมริกาใต้

การเดินทางของโคลัมบัสได้รับการสนับสนุนจากพระเจ้าเฟอร์ดินานด์และสมเด็จพระราชินีนาถอิซาเบลลาแห่งสเปน โดยทั้งสองพระองค์ได้พระราชทานเรือเพื่อใช้ในการเดินทาง ๓ ลำ คือ เรือซานตามาเรีย เรือนิงญา และเรือปีนตา โคลัมบัสเดินทางโดยอาศัยเครื่องวัดความสูงของท้องฟ้าและเข็มทิศ ออกเดินทางจากสเปน เมื่อวันที่ ๓ สิงหาคม ค.ศ. ๑๔๙๒ ใช้เวลาเดินทางนานกว่า ๕ สัปดาห์ จนเมื่อเวลา ๐๒.๐๐ นาฬิกา ของวันที่ ๑๒ ตุลาคม คณะของโคลัมบัสก็เดินทางมาถึงดินแดน "บาฮามาส" (Bahamas) โคลัมบัสขนานนามดินแดนนี้ว่า "ซานซัลวาดอร์" (San Salvador) ซึ่งแปลว่า "พระเจ้าช่วย" หลังจากนั้น โคลัมบัสได้เดินทางไปยังโลกใหม่อีก ๓ ครั้ง ในครั้งที่ ๓ ได้ขึ้นฝั่งที่แผ่นดินใหญ่ของอเมริกาใต้



ภาพวาดแสดงการค้นพบโลกใหม่ของโคลัมบัส

โคลัมบัสได้ถึงแก่กรรมใน ค.ศ. ๑๕๐๖ โดยที่ไม่รู้ว่าดินแดนที่ค้นพบ คือ ดินแดนใหม่ไม่ใช่อินเดีย แต่นักประวัติศาสตร์ได้ยกย่องให้โคลัมบัสเป็นผู้ค้นพบ "โลกใหม่" ก่อนบุคคลใดในโลก เพราะเขาสามารถไปสร้างอาณานิคมบนดินแดนนั้นได้



ส่วนคำว่า "อเมริกา" นั้น เป็นชื่อของนักเดินเรือชาวอิตาลี ชื่อว่า "อเมริโก เวสปุชชี" (Amerigo Vespucci) ซึ่งเป็นผู้ที่เดินเรือไปถึงทวีปอเมริกาใต้ ใน ค.ศ. ๑๔๙๙ และพบว่าโลกใหม่เป็นผืนแผ่นดินอีกแห่งที่อยู่ระหว่างทวีปยุโรปกับทวีปเอเชีย เมื่อกลับไปยังอิตาลีเขาได้เขียนหนังสือเกี่ยวกับการเดินทางในครั้งนั้นซึ่งแพร่หลายมากในยุโรป ชาวยุโรปจึงเรียกโลกใหม่ว่า "อเมริกา" ตามชื่อของ อเมริโก เวสปุชชี มาจนถึงทุกวันนี้

ที่มาของหนังสือ หนังสือเรียน รายวิชาพื้นฐาน สังคมศึกษา ม.3 กมล ทองธรรมชาติ และคณะ
สำนักพิมพ์ อักษรเจริญทัศน์ อจท.

ใบงานที่ 1 เรื่อง เมืองหลวงทวีปอเมริกาเหนือ

ชื่อ.....ชั้น.....เลขที่.....

คำสั่ง ให้นักเรียนนำหมายเลขที่อยู่หน้าข้อความต่อไปนี้ ไปเติมลงในช่องว่างหน้าชื่อเมืองหลวงให้ถูกต้อง

- | | | | | |
|-------------------|------------------|------------------------|--------------------------------|--------------|
| 1. บาร์เบโดส | 2. สหรัฐอเมริกา | 3. กัวเตมาลา | 4. เม็กซิโก | 5. คอสตาริกา |
| 6. เกรเนดา | 7. จาเมกา | 8. เซนต์คิตส์และเนวิส | 9. เซนต์ลูเชีย | 10. แคนาดา |
| 11. เบลีซ | 12. เอลซัลวาดอร์ | 13. นิการากัว | 14. ฮอนดูรัส | 15. ปานามา |
| 16. คิวบา | 17. เฮติ | 18. เปอร์โตริโก | 19. เซนต์วินเซนต์และเกรนาดีนส์ | |
| 20. บาฮามาส | 21. โดมินิกา | 22. สาธารณรัฐโดมินิกัน | 23. แอนติกาและบาร์บูดา | |
|ซานโฮเซ | |ปานามา |บาสเตอร์ | |
|นัสซอ | |แคสทรีส์ |เซนต์จอนส์ | |
|ฮาวานา | |เซนต์จอร์เจส |วอชิงตัน ดี ซี | |
|โรโซ | |คิงส์ตัน |คิงส์ทาวน์ | |
|บริดจ์ทาวน์ | |เม็กซิโกซิตี |กัวเตมาลาซิตี | |
|ซันโตโดมิงโก | |ซันซัลวาดอร์ |เตกูซิกาลปา | |
|ซานฮวน | |ออกตาวา |มานากัว | |
|ปอร์โตแปรงซ์ | |เบลโมแพน | | |

ใบงานที่ 3 เรื่อง ทวีปอเมริกาเหนือ

ชื่อ.....ชั้น.....เลขที่.....

คำสั่ง จงตอบคำถามต่อไปนี้

1. ทิศใต้ของทวีปอเมริกาเหนือ ติดต่อกับทวีปใด

.....

2. บริเวณใดของทวีปอเมริกาเหนือที่เกิดภูเขาไฟปะทุและแผ่นดินไหวอยู่เสมอ

.....

3. เขตเทือกเขาสูงที่ปรากฏเป็นแนวต่อเนื่องพบในภาคใดของทวีปอเมริกาเหนือ

.....

4. บริเวณใดที่เรียกว่า เขตหินเก่าแคนาดา

.....

5. แกรนด์แคนยอน หมายถึง

.....